

# 三上数学期末总复习学习单每日一练

## 1. 《秒的认识》

### 一、填一填

- 1、我们以前学过的时间单位有：\_\_\_\_\_。
- 2、1 时 = ( ) 分                  2 时 = ( ) 分                  120 分 = ( ) 时
- 3、我们在生活中计量很短的时间，通常用 ( ) 做单位，例如除夕夜等待新年钟声的倒计时，每相邻两个数的时间间隔大约就是 1 ( )。
- 4、钟面上最长最细的针是 ( ) 针。秒针走 1 小格的时间是 ( )。走 1 圈的时间是 1 ( )，1 分 = ( ) 秒。
- 5、在钟面上，秒针从数字 ( ) 走到数字 ( ) 就是 10 秒。

### 二、算一算

- 2 分 = ( ) 秒                  300 分 = ( ) 时                  240 秒 = ( ) 分  
3 时 = ( ) 分                  2 分 40 秒 = ( ) 秒                  90 秒 = ( ) 分 ( ) 秒

### 三、巩固练习

- 1、在 ( ) 里填上合适的时间单位  
小明早上穿衣服大约用了 3 ( )                  小超跑 100 米用了 20 ( )。  
爸爸每天的睡眠时间大约 7 ( )                  蒸一锅米饭大约用 15 ( )。  
跳绳 15 下用了 10 ( )。
- 2、在○里填上 “>”，“<” 或 “=”。  
1 时○60 秒                  3 时○180 分                  4 分○40 秒  
100 秒○2 分                  250 分○4 时                  1 分 20 秒○120 秒

### 四、拓展延伸

- 1、下面是学校运动会 50 米比赛成绩：      2、下面是 10 米自行车慢骑比赛成绩：

姓名	李超	张明	王强	陈伟
成绩	10 秒	12 秒	15 秒	13 秒

姓名	小明	小刚	小利	小华
成绩	15 秒	20 秒	17 秒	10 秒

- (1) 谁是冠军？
- (2) 请按名次给他们排队。

- (1) 谁是冠军？
- (2) 请按名次给他们排队。

# 三上数学期末总复习学习单每日一练

## 2. 《计算简单的经过时间》

### 一、读一读

1、读出下面钟表上的时间并写下来：



(       )



(       )



(       )



(       )

### 二、填一填

1、时针从数字 3 走到数字 6，经过的时间是 (       )，分针从数字 3 走到数字 6，经过的时间是 (       )。

2、一节数学课需要 40 (       )，再加上 (       ) 分钟就是 1 小时。

3、电影从 8:00 开始演，9:30 演完，共放映了 (       ) 小时 (       ) 分钟。

4、先写出钟面上的时间，再算一算经过了多长时间。



(       )

经过(       )分



(       )

经过(       )分



(       )

### 三、算一算

$$35 \text{ 秒} + 25 \text{ 秒} = (       ) \text{ 秒} = (       ) \text{ 分}$$

$$1 \text{ 分} - 40 \text{ 秒} = (       ) \text{ 秒}$$

$$40 \text{ 秒} + 50 \text{ 秒} = (       ) \text{ 分} (       ) \text{ 秒}$$

$$1 \text{ 分} 10 \text{ 秒} - 30 \text{ 秒} = (       ) \text{ 秒}$$

### 四、解决问题

1、小明星期天下午计划 4:20 到 5:10 写作业。

(1) 他计划写作业一共用多长时间？

(2) 如果再有 20 分钟就写完作业了，那么你知道现在是几时几分吗？

2、一个钟表显示的时间是 7:30 分，它比准确时间慢了 6 分钟，你知道准确时间是几时几分吗？

# 三上数学期末总复习学习单每日一练

## 3. 《两位数加两位数》

### 一、列竖式算一算

$65+21=$

$53+42=$

$71+12=$

$41+40=$

$43+38=$

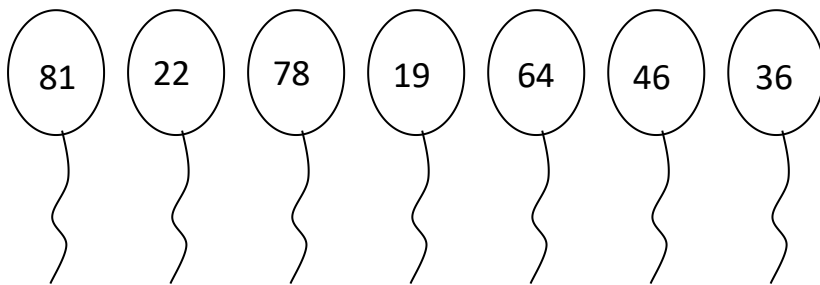
$28+35=$

$37+45=$

$36+30=$

### 二、巩固练习

1、把和是 100 的两个气球涂上相同的颜色。



2、妈妈提了 14 千克重的袋子，爸爸提的袋子比妈妈的重 23 千克，爸爸、妈妈一共提了多少千克的袋子？

### 三、选一选

1、星星商店第一次进了 65 瓶饮料，第二次进了 80 瓶，一共进了( )瓶

A.125

B.145

C.80

2、下面算式的得数可能比 70 大的是( )。

A.43+2☆

B.39+2☆

C.90-2☆

### 四、解决问题

体育老师买来三根不同长度的绳子，红绳比黄绳长 24 米，蓝绳比黄绳短 18 米，你知道红绳比蓝绳长多少米吗？

# 三上数学期末总复习学习单每日一练

## 4. 《两位数减两位数》

### 一、列竖式算一算

$36 - 21 =$

$75 - 35 =$

$80 - 57 =$

$90 - 40 =$

$74 - 28 =$

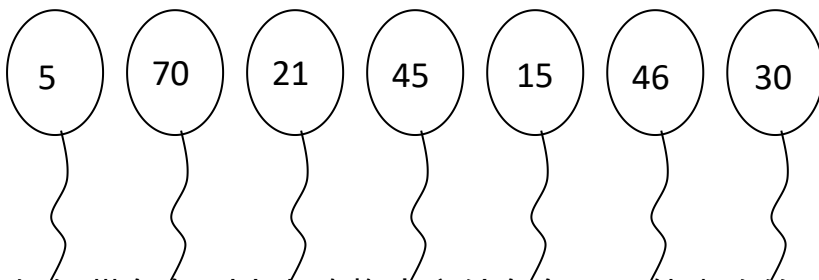
$54 - 48 =$

$60 - 33 =$

$64 - 37 =$

### 二、巩固练习

1、把差是 25 的两个气球涂上相同的颜色。



2、妈妈带东东到生力购物中心给东东买了他喜欢的一条裤子花了 84 元，鞋子一双 93 元，东东买的鞋子比裤子贵多少元钱？

### 三、选一选

一捆铁丝长 90 米，第一次用了 25 米，第二次用了 40 米，一共用了多少米？列式为( )。

A.  $90 - 25 + 40$

B.  $25 + 40$

C.  $90 - (25 + 40)$

### 四、解决问题

1、爸爸今年 36 岁，王佳今年 12 岁，当爸爸 50 岁时，王佳多少岁？

2、小马虎做加法练习题时，他把第二个数 26 看成了 62，算出的结果是 86。第一个加数是多少？正确的和应该是多少？

# 三上数学期末总复习学习单每日一练

## 5. 《几百几十加减几百几十》

### 一、列竖式算一算

$180+260=$

$550-490=$

$340+370=$

$800-480=$

$570+290=$


$160+370=$

$360-280=$

$450-190=$


### 二、巩固练习

1、给大树看病：(对的打“√” 错的打“×” 并改正过来)


$$\begin{array}{r} 90 \\ +320 \\ \hline 1220 \end{array}$$


改正：

( )


$$\begin{array}{r} 260 \\ +390 \\ \hline 550 \end{array}$$

改正：

( )


$$\begin{array}{r} 760 \\ -470 \\ \hline 390 \end{array}$$

改正：

( )

2、学校二年级有 420 名学生，三年级有 510 名学生，学校二年级和三年级一共有多少名学生？ 三年级比二年级多多少名学生？

### 三、解决问题

小马虎在计算一道数学题时，把被减数 460 写成了 640，算出的结果是 290，正确的结果是多少？

# 三上数学期末总复习学习单每日一练

## 6. 《估算三位数加、减三位数》

### 一、边想边做

1、 $388+516\approx$  ( )。想：388 接近 ( )，516 接近 ( )，( ) + ( ) = ( )，

2、所以  $388+516$  约等于 ( )。 $618-206\approx$  ( )。想：618 接近 ( )，206 接近 ( )，( ) - ( ) = ( )，所以  $618-206$  约等于 ( )。

### 二、估算：

$$167+293\approx$$

$$861-194\approx$$

$$387+243\approx$$

$$358-274\approx$$

$$297+508\approx$$

$$786-539\approx$$

### 三、解决问题

1、二年级植树 392 棵，三年级植树 427 棵，这两个年级大约一共植树多少棵？

2、一本故事书有 608 页，冬冬每天看 25 页，已经看了 3 天，问：冬冬大约还有多少页没有看？

3、巨幕影院有 441 个座位，如果两个旅游团分别有 196 名和 226 名团员，这两个旅游团同时看巨幕电影，坐的下吗？

### 四、拓展延伸

小明家和小东家与学校在同一条路上，小明家到学校 514 米，小东家到学校 236 米，小明家距小东家大约多少米？（画一画图，可以帮助你理解哦！）

# 三上数学期末总复习学习单每日一练

## 7. 《毫米的认识》

### 一、填一填

1、在直尺中 1 厘米中间的每一个小格的长度是 (                      ) , 1 厘米 = (        ) 毫米。

2、填上合适的长度单位:



长约 28 (        )

直尺的厚度大约是 2 (        )

数学书的厚度大约 10 (        )



的高度大约是 65 (        )

3、填一填:

1 厘米 = (        ) 毫米

4 厘米 = (        ) 毫米

10 毫米 = (        ) 厘米,

70 毫米 = (        ) 厘米

1 厘米 - 6 毫米 = (        ) 毫米

4、在○里填上 “>” “<” 或 “=”

10 毫米○10 厘米

1 米○100 厘米

6 厘米○10 毫米

2 米○90 毫米

### 二、判断

1.小文的食指长约 5 毫米。 (        )

2.小亿的身高约为 14 分米。 (        )

3.一支铅笔的长度约 3 毫米 (        )

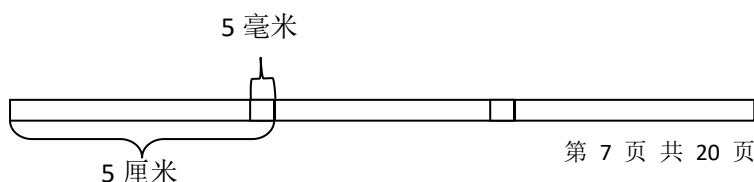
### 三、画一画

1、画一条比 2 厘米长 6 毫米的线段。

2、画一条比 4 厘米短 4 毫米的线段。

### 四、拓展延伸

把 3 张长 5 厘米的纸条粘合在一起, 粘合的部分长 5 毫米, 粘成的纸条长多少厘米?



# 三上数学期末总复习学习单每日一练

## 8. 《分米的认识》

### 一、填一填

1、直尺上，“0”到“10”之间的长度是( )厘米，也是1( )。

2、米、分米、厘米、毫米每相邻两个长度单位之间的进率是( )。

### 3、换算

1 厘米 = ( ) 毫米                  8 厘米 = ( ) 毫米                  10 毫米 = ( ) 厘米

60 毫米 = ( ) 厘米                  7 分米 = ( ) 厘米                  50 厘米 = ( ) 分米

80 分米 = ( ) 米                  60 毫米 = ( ) 厘米                  10 米 = ( ) 分米

4、在( )里填上合适的单位：

一张银行卡的厚度约 1 ( )

一把小刀长约 7 ( ) 4 ( )

爸爸的身高约 180 ( )

图钉长约 9 ( )

粉笔盒高大约 1 ( )

一间教室高大约 3 ( )

乒乓球台高约 12 ( )

一支笔长约 15 ( )

光盘的厚度大约 1 ( )

一本书长约 2 ( )

5、在○里填上“>” “<” 或 “=”

8 分米○8 毫米

4 分米○40 厘米

3 米○29 分米

7 分米○100 厘米

9 厘米○4 分米

42 毫米○5 分米

50 毫米○10 厘米

35 厘米 - 3 分米○32 厘米

### 二、画一画

(1) 画一条长 5 厘米 8 毫米的线段。

(2) 画一条长 1 分米 4 厘米长的线段。

### 三、拓展延伸

小明向上举起手臂后的最大高度为 1 米 37 厘米，帽子挂在衣架的 1 米 7 分米高处，他能拿到帽子吗？(可以利用旁边 5 分米高的小板凳)



# 三上数学期末总复习学习单每日一练

## 9. 《千米的认识》

### 一、填一填

1、计量比较长的路程，通常用( )作单位，用字母表示为( )。

2、若某操场的跑道 1 圈是 200 米，则( )圈就是 1 千米。

3、换算

5 千米= ( ) 米

4000 米= ( ) 千米

13 千米 - 5 千米= ( ) 千米

6000 米+3 千米= ( ) 千米

6200 米+1800 米= ( ) 米= ( ) 千米

4、在○里填上 “>” “<” 或 “=”

60 分米○5 米

7000 米○7 千米

4 千米○400 米

80 米○800 厘米

6 米○59 分米

3000 米 - 2 千米○1 千米

### 二、选一选

1.千米和米之间的进率是( )。

A. 10

B.100

C.1000

2.小明从家到学校要走 1200 米，他已经走了 1 千米，还要走( )米。

A.2000

B.200

C.1000

### 三、判断

1、一块橡皮厚约 1 分米。 ( )

2、骑车每小时行驶 60 米。 ( )

3、一根电线杆高 15 千米。 ( )

4、1 千米又叫 1 公里。 ( )

5、操场跑道长 400 千米。 ( )

6、50 千米和 5000 米一样长。 ( )

### 四、解决问题

更多小学初中资料加微ah899017

小明家距离学校 2 千米。一天早晨小明上学时，走了一半，发现英语书忘在家里了，急忙赶回家拿了英语书后再走到学校。小明这天上学一共走了多少千米？

# 三上数学期末总复习学习单每日一练

## 10. 《吨的认识》

### 一、填一填

- 1、每袋大米重 100 千克，10 袋大米重( )千克，也就是 1( )。
- 2、一名同学的体重是 25 千克，10 名这样重的同学大约重( )千克，40 名这样的同学大约重 1( )
- 3、在 ( ) 里填上合适的数，使每种东西的总重恰好是 1 吨。
  - (1) 一头小牛重 250 千克，( ) 头小牛是 1 吨。
  - (2) 一袋大米重 20 千克，( ) 袋大米是 1 吨。
  - (3) 一桶汽油是 10 千克，( ) 桶汽油是 1 吨。

### 4、填一填。

1 吨 = ( ) 千克      7 吨 = ( ) 千克      5000 千克 = ( ) 吨  
2300 千克 - 300 千克 = ( ) 吨      1 吨 - 400 千克 = ( ) 千克

### 5、在○里填上 “>” “<” 或 “=”

4 吨○4000 千克      6000 吨○6 千克      8000 克○7 吨  
5000 千克○7000 克      3000 千克○5 吨      1000 千克○10 吨

### 二、我是小法官

- 1、5 吨棉花比 5 吨铁轻。 ( )
- 2、小亮的身高是 13 分米，体重是 34 吨。 ( )
- 3、克、千克、吨都是质量单位，相邻单位间的进率都是 1000。 ( )
- 4、2 吨比 1999 千克多 1 千克。 ( )

### 三、排序

3 吨      4200 千克      9000 克      500 千克  
\_\_\_\_\_ > \_\_\_\_\_ > \_\_\_\_\_ > \_\_\_\_\_

### 四、【拓展延伸】

1 只小熊和 1 车玉米共重 1 吨，1 只小熊和 6 车玉米共重 2 吨，你知道每车玉米重多少千克吗？小熊重多少千克？

$$\begin{array}{c} ? \\ \text{玉米车} \end{array} + \begin{array}{c} ? \\ \text{小熊} \end{array} = 1 \text{ 吨}$$

# 三上数学期末总复习学习单每日一练

## 11. 《万以内数的加减法》

### 一、列竖式算一算

$93+802=$

$545+54=$

$281+64=$

$65+93=$

$278-75=$

$406-102=$

$133-74=$

$261-52=$

$78+395=$

$549+182=$

$347+976=$

$278-75=$

### 二、填一填

1、小明想知道自己计算的“ $500-437=63$ ”对不对，他可以采取的检查方法是( )加( )，看结果是否等于( )；或者( )减( )，看结果是否等于( )。

2、比 267 多 138 的数是\_\_\_\_\_，\_\_\_\_\_比 504 少 176。

3、水果店原来苹果比橘子多 6 框，现在又运来橘子 11 框，苹果 9 框，现在谁多？(打√表示) 苹果\_\_\_\_，橘子\_\_\_\_。多\_\_\_\_框。

### 三、想一想

下面图形各代表数字几？

$\triangle = ( \quad )$

$9 \triangle \circ$

$\circ = ( \quad )$

$$\begin{array}{r} - \square 5 3 \\ \hline \end{array}$$

$\square = ( \quad )$

$1 7 8$

### 四、解决问题

1、小明家离学校 538 米，一天他去上学，从家向学校走出 298 米后，发现忘记带数学书，又回家去取，他这次上学一共走了多少米？

2、大剧院楼下有 420 个座位，比楼上多 170 个座位。大剧院楼上有多少个座位？楼上、楼下一共有多少个座位？

# 三上数学期末总复习学习单每日一练

## 12. 《万以内数的加减法》

### 一、填一填

- 1、比 300 多 54 的数是(      ),300 比(      )多 54。
- 2、通过视力调理,美美的近视度数从 220 度恢复到 115 度,她的视力恢复了(      )度。
- 3、有一种柴油桶,装满柴油后连桶正好重 1 吨,将柴油用掉一半后,连桶共重 520 千克。柴油桶的质量是(      )千克。
- 4、一张书桌 502 元,一张椅子 199 元。妈妈买这两件东西,大约应准备(      )元,收银员实收(      )元。

### 二、选一选

- 1、笔算加法时,不管哪一位上的数相加满十,都要(      )。  
A.向十位进一                      B.向最高位进一                      C.向前一位进一
- 2、下列三组数中,(      )两个数相加得 10000。  
A. 536 和 364                      B. 649 和 341                      C. 792 和 208
- 3、一根绳子长 984 米,第一次用去 438 米,第二次用去 329 米。现在绳子的长度比原来缩短了多少米?正确的算式是(      )。  
A.  $984-438-329$                       B.  $984-(438+329)$                       C.  $438+329$

### 三、解决问题

- 1、周末,小明妈妈从家里出发,先去图书馆还书,再到医院买药,然后直接回家。她一共走了多少米?



- 2、电风扇的价格是 245 元,微波炉的价格是 368 元,爸爸要买这两样商品,带 600 元钱够吗?

# 三上数学期末总复习学习单每日一练

## 13. 《倍的认识》

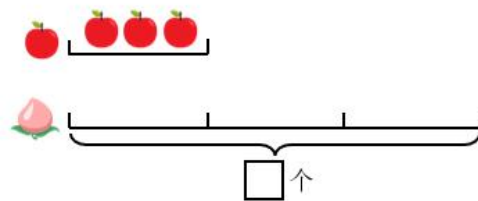
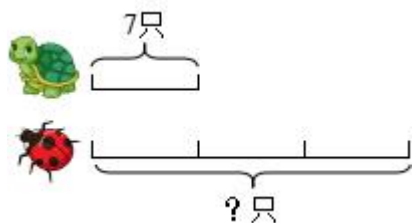
### 一、填一填

- 1、萍萍做了 8 朵纸花，折的纸鹤的数量是纸花的 6 倍，折了( )个纸鹤，纸花比纸鹤少( )个。
- 2、90 的 6 倍是( )，90 是 6 的( )倍。
- 3、小敏看一本漫画书，平均每天看 9 页，小明每天看的页数是小敏的 2 倍。小明每天看( )页，小敏和小明每天一共看( )页。
- 4、( )的 6 倍是 36；3 的( )倍是 21。

### 二、选一选

- 1、明明有 425 元的压岁钱，小芳的压岁钱是明明的 5 倍，那么小芳比明明多( )钱。  
A. 1700 元      B. 2125 元      C. 1600 元
- 2、一个数的 5 倍是 30，这个数的 9 倍是( )。  
A. 45      B. 54      C. 81
- 3、甲数是 9，乙数是甲数的 3 倍，甲乙两数相差( )  
A. 27      B. 18      C. 6
- 4、如果  $\triangle$  是  $\square$  的 25 倍，则下面关系正确的是( )  
A.  $\triangle \times \square = 25$       B.  $\triangle \times 25 = \square$       C.  $\square \times 25 = \triangle$

### 三、看图列式计算



### 四、解决问题

水果店运来苹果、桔子、香蕉三种水果共 420 千克，苹果的重量是香蕉的 4 倍，桔子的重量是香蕉的 2 倍，三种水果各有多少千克？

# 三上数学期末总复习学习单每日一练

## 14. 《倍数问题》

### 一、填一填

- 1、乐乐今年 6 岁，爸爸的年龄是她的 6 倍，爸爸今年( )岁，去年爸爸的年龄是她的( )倍。 更多小学初中资料加微ah899017
- 2、舞蹈队有 40 名女生，9 名男生。摆一个造型，女生的人数必须是男生的 4 倍。如果男生人数不变，需要减少( )名女生。
- 3、小芳有 7 张邮票，小兰有 35 张邮票，小兰的邮票数量是小芳的( )倍；小明邮票数量是小芳的 8 倍，小明的邮票有( )张。
- 4、有 8 颗红珠子，黄珠子的数量比红珠子的 6 倍多 7 颗，黄珠子有( )颗。

### 二、判一判

- 1、小明有 12 颗幸运星，小东有 6 颗。求小明的幸运星颗数是小东的几倍，就是问 12 里面有几个 6。
- 2、小红有 42 元钱，小明有 7 元钱小明的钱是小红的 6 倍。
- 3、三年级有 36 名优秀少先队员，四年级有 9 名优秀少先队员，三年级优秀少先队员的人数是四年级的 4 倍。
- 4、5 的 2 倍，也就是 5 个 2。
- 5、袋子里有 9 个红球，黄球的个数是红球的 3 倍，红球和黄球共 27 个。

### 三、解决问题

- 1、花店里有 2 束玫瑰花，每束 9 枝，还有 6 枝百合花。玫瑰花的枝数是百合花的几倍？
- 2、操场上跳绳的有 6 人，踢足球的人数比跳绳的 6 倍多 2 人，踢足球的有多少人？
- 3、张爷爷家养了 36 只鸭，正好是母鸡的 4 倍，是公鸡的 6 倍。张爷爷家一共养了多少只鸡？

# 三上数学期末总复习学习单每日一练

## 15. 《多位数乘一位数》

### 一、列竖式算一算

$41 \times 2 =$

$232 \times 3 =$

$23 \times 3 =$

$112 \times 7 =$

$152 \times 4 =$

$476 \times 3 =$

$219 \times 7 =$

$325 \times 4 =$

### 二、判一判

(1) 三位数乘一位数，要从这个三位数的最高位开始乘起。 ( )

(2) 在计算  $576 \times 6$  时， $6 \times 6 = 36$ ，表示 36 个十。 ( )

(3) 三位数乘一位数，积是三位数或四位数。 ( )

(4) 每箱方便面 38 元，买 6 箱，240 元不够。 ( )

### 三、填一填

1、多位数乘一位数，从多位数的( )乘起，哪一位上乘得的积满几十，就要向( )进几。

2、0 与任何数相乘都得 ( )。

3、3 个 208 相加得 ( )。


4、 $250 \times 8$  的积的末尾有 ( ) 个 0， $205 \times 8$  的积的末尾有 ( ) 个 0。

### 四、解决问题

1、儿童节前夕，四年级两个班的同学做灯笼。一班有 54 人，平均每人做 4 个；二班有 46 人，平均每人做 6 个，两个班一共做了多少个灯笼？

2、三年级有 287 人坐车参观烈士陵园，4 辆车已经坐满了，第 5 辆车还要坐多少人？

每辆车限坐 58 人。



# 三上数学期末总复习学习单每日一练

## 16. 《估算》

### 一、填一填

1、估算  $78 \times 5 \approx$  ( ) 时, 把 78 看作 ( ), 然后口算 ( )  $\times 5 =$  ( )。

2、估算  $409 \times 6$  时, 把 409 看作 ( ), 然后口 ( )  $\times 6 =$  ( ), 所以  $409 \times 6 \approx$  ( )。

### 二、估算

$$52 \times 6 \approx$$

$$78 \times 9 \approx$$

$$204 \times 7 \approx$$

$$398 \times 4 \approx$$

$$202 \times 9 \approx$$

$$71 \times 8 \approx$$

$$401 \times 8 \approx$$

$$408 \times 6 \approx$$

### 三、脱式计算

$$735 \div 5 \times 8$$

$$684 + 306 \div 6$$

$$300 - 300 \div 6$$

$$124 + 176 \div 4$$

### 四、解决问题

1、购买家用电器。3. 购买家用电器。

(1) 买 5 台电风扇大约需要多少钱?



196 元



1058 元

(2) 王叔叔有 6500 元, 买 6 台微波炉够吗?

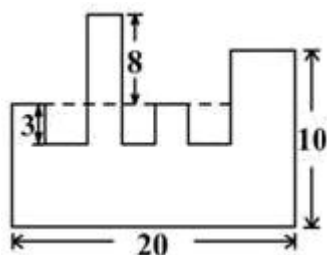


# 三上数学期末总复习学习单每日一练

## 17. 《长方形和正方形》

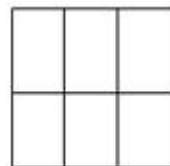
### 一、填一填

- 1、长方形和正方形都是（ ）形，都有（ ）条边，（ ）个（ ）角，其中正方形（ ）边都相等。
- 2、数学书的封面长 21 厘米，宽 15 厘米，周长是（ ）厘米。
- 3、正方形的边长是 12 厘米，周长是（ ）厘米。
- 4、一根绳子长 4 米，正好绕桌子一圈，桌子的周长是（ ）米。
- 5、如图所示图形的周长是（ ）。

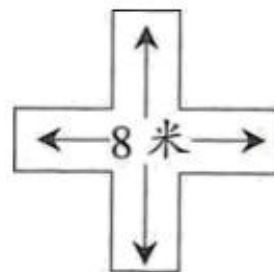


### 二、解答题

- 1、六个同样大小的长方形正好拼成一个如下图的正方形，正方形周长为 48 厘米，每个长方形的周长是多少？



- 2、张伯伯家有一块“十”字形菜地（如图），在菜地四周围上篱笆，篱笆长多少米？



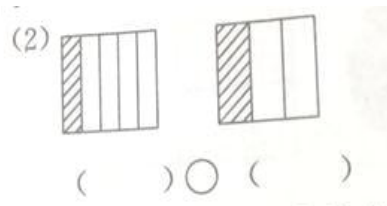
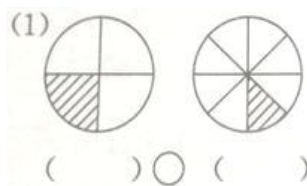
- 3、有两根同样长的铁丝，一根正好可以围成一个边长是 3 厘米的正方形，另一根正好围成一个宽是 2 厘米的长方形。这个长方形的长是多少厘米？

# 三上数学期末总复习学习单每日一练

## 18. 《分数的初步认识 1》

### 一、填一填

1、看图写分数，并比较大小：



2、比较下列分数的大小：

$\frac{1}{9} \bigcirc \frac{1}{10}$

$\frac{1}{6} \bigcirc \frac{1}{2}$

$\frac{1}{20} \bigcirc \frac{1}{10}$

$\frac{1}{6} \bigcirc \frac{1}{12}$

$\frac{1}{2} \bigcirc \frac{1}{7}$

$\frac{1}{8} \bigcirc \frac{3}{8}$

$\frac{5}{9} \bigcirc \frac{3}{9}$

$\frac{4}{4} \bigcirc \frac{3}{4}$

$\frac{2}{7} \bigcirc \frac{5}{7}$

$\frac{5}{9} \bigcirc \frac{3}{9}$

3、 $\frac{10}{11}$  读作 ( )。

4、 $\frac{3}{5}$  里面有 ( ) 个  $\frac{1}{5}$ ，5 个  $\frac{1}{5}$  是 ( ) 分之 ( )。

5、把一个苹果平均分成 4 分，小明吃了 2 份，他吃了这个苹果的 ( )。

6、 $\frac{3}{4}$  表示把一个物体平均分成 ( ) 份，取其中的 ( ) 份。

### 二、判一判

1、把一个圆分成 3 份，其中的一份用分数表示就是  $\frac{1}{3}$ 。( )

2、同样大的物体或图形，平均分的份数越多，每一份反而越小。( )

3、分子是 1 时，分母越大，分数越小。( )

4、 $\frac{1}{4} > \frac{1}{2}$  ( )

### 三、解决问题

1、甲、乙两人同时从学校出发去书店，半小时后，甲走了全程的  $\frac{1}{4}$ ，乙走了全程的  $\frac{1}{5}$ ，两人谁走的快？

# 三上数学期末总复习学习单每日一练

## 19. 《分数的初步认识 2》

### 一、填一填

1、在括号里填上一个符合条件的数：

$$\frac{8}{10} > \frac{(\quad)}{10}$$

$$\frac{6}{8} < \frac{(\quad)}{8}$$

$$\frac{3}{6} > \frac{(\quad)}{6}$$

$$\frac{2}{3} > \frac{(\quad)}{3}$$

2、4个 $\frac{1}{7}$ 加上2个 $\frac{1}{7}$ 是( )个 $\frac{1}{7}$ ，就是 $\frac{(\quad)}{(\quad)}$ 。

3、 $\frac{2}{9} + \frac{7}{9}$ 表示( )个 $\frac{1}{9}$ 加上( )个 $\frac{1}{9}$ ，就是( )个 $\frac{1}{9}$ ，也就是 $\frac{(\quad)}{(\quad)}$ ，即为1。

4、 $\frac{4}{5} - \frac{2}{5}$ 表示( )个 $\frac{1}{5}$ 减去( )个 $\frac{1}{5}$ ，就是( )个 $\frac{1}{5}$ ，也就是 $\frac{(\quad)}{(\quad)}$ 。

### 二、计算

$$\frac{5}{8} - \frac{1}{8} =$$

$$\frac{4}{9} + \frac{2}{9} =$$

$$\frac{3}{4} - \frac{3}{4} =$$

$$\frac{2}{6} + \frac{3}{6} =$$

$$1 - \frac{1}{6} =$$

$$\frac{1}{7} + \frac{6}{7} =$$

$$\frac{1}{3} + \frac{1}{3} =$$

$$1 - \frac{4}{9} =$$

### 三、计算

1、一堆萝卜有16个，其中 $\frac{1}{4}$ 是白萝卜， $\frac{3}{4}$ 是胡萝卜，白萝卜和胡萝卜各有多少个？

(先画画图，再列式计算)

2、老师买来14盆花，其中 $\frac{2}{7}$ 是菊花，剩下的是百合花，有多少盆菊花？百合花占总数的几分之几？

更多小学初中资料加微ah899017

# 三上数学期末总复习学习单每日一练

## 20. 《数学广角——集合》

### 一、填一填

1、找一找，圈一圈，填一填：

爸爸买的菜：

白菜、西红柿、胡萝卜、茄子、鱼、鸡蛋。

妈妈买的菜：

黄瓜、排骨、冬瓜、西红柿、茄子。

爸爸和妈妈都买了（ ）

爸爸和妈妈一共买了（ ）种菜。

2、

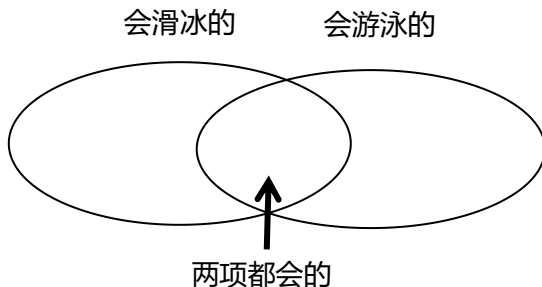
三（1）班会滑冰的同学：

王芳、陈平、马力、张红、赵明、李聪、周强。

三（1）班会游泳的同学：

刘伟、董玉、李聪、宋洁、赵明、王芳、冯晓、杜新。

(1) 把学生的姓名填入相应的圈里。



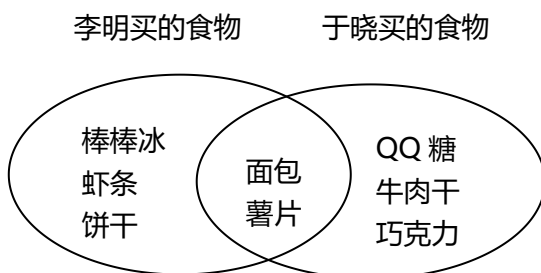
(2) 会游泳的有（ ）人，

会滑冰的有（ ）人。

(3) 两项都会的有（ ）人。

### 二、【巩固练习】

如图：是我班两名同学新年活动时买的食物。



1、李明买了什么？

2、于晓买了什么？

3、他们买了哪些一样的食物？