

# 一年级数学下册课内每日计算小纸条

姓名\_\_\_\_\_班级\_\_\_\_\_

## 一、口算题

$18-9=$

$16+5=$

$23-7=$

$21+8=$

$10-9+9=$

$1+6+8=$

$13-4=$

$15-6=$

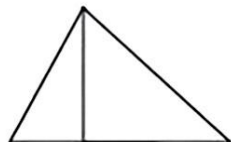
$4+24=$

$6+5=$

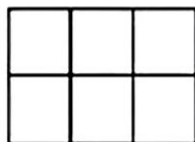
$7+7+9=$

$4+( )=13$

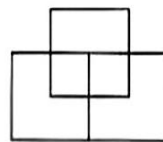
## 二、填空题



有( )个三角形



有( )个正方形



有( )个正方形

## 三、思维训练题

小平家距学校 2 千米，一次他上学走了 1 千米，想起忘带铅笔盒，又回家去取。这次他到学校共走了多少千米？

# 一年级数学下册课内每日计算小纸条

姓名\_\_\_\_\_班级\_\_\_\_\_

## 一、口算题

$6+8=$

$5+9=$

$4+11=$

$12-9=$

$20-5=$

$49-( )=9$

$2+7=$

$6-5=$

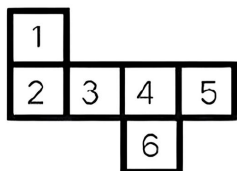
$15+3=$

$16-4=$

$6+( )=66$

$( )+20=20$

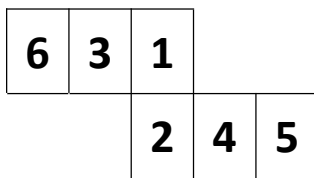
## 二、填空题



1的对面是 ( )

2的对面是 ( )

3的对面是 ( )



1的对面是 ( )

3的对面是 ( )

## 三、思维训练题

小华有 10 个红气球，小花有 8 个黄气球。小华用 4 个红气球换小花 3 个黄气球，现在小华、小花各有几个球？

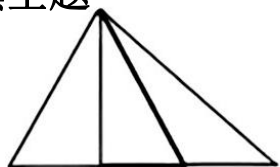
# 一年级数学下册课内每日计算小纸条

姓名\_\_\_\_\_班级\_\_\_\_\_

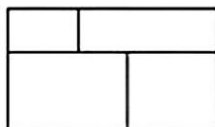
## 一、口算题

$$\begin{array}{cccccc} 3+15= & 20-11= & 9-8= & 16-13= & 10+5= & 12+6= \\ 11+5= & 15-4= & 11+9= & 20-3= & 15-( )=10 & ( )+6=18 \end{array}$$

## 二、填空题



有（ ）三角形



有（ ）个长方形

有（ ）正方形

## 三、思维训练题

有一本书，小华第一天看了 2 页，以后每一天都比前一天多看 2 页，第 4 天看了多少页？

# 一年级数学下册课内每日计算小纸条

姓名\_\_\_\_\_班级\_\_\_\_\_

## 一、口算题

$$\begin{array}{cccccc} 3+6= & 13+4= & 17-2= & 19-10= & 6-5= & 11-10= \\ 5+11= & 16-11= & 12+6= & 11+7= & 20-6= & 9-( )=9 \end{array}$$

## 二、填空题

1、最大的两位数是\_\_\_\_\_，最大的一位数是\_\_\_\_\_，他们的差是\_\_\_\_\_。

2、用数字2、3、4组成\_\_\_\_\_个不同的两位数，其中最大的两位数和最小的两位数的差是\_\_\_\_\_。

3、\_\_\_\_\_个十是80，再添上\_\_\_\_\_个十和\_\_\_\_\_个一就是93。

## 三、思维训练题

王老师做了些花奖励给明明和冬冬，明明得到16 朵，冬冬得到的是明明的一半，王老师一共做了多少朵花？

# 一年级数学下册课内每日计算小纸条

姓名\_\_\_\_\_班级\_\_\_\_\_

## 一、口算题

$28-9=$

$16+5=$

$23-7=$

$21+8=$

$10-9+9=$

$19-6+8=$

$13-4=$

$15-6=$

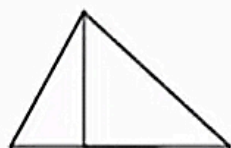
$4+24=$

$35+5=$

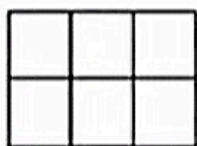
$27+7+9=$

$30+( )=42$

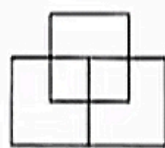
## 二、填空题



有( )个三角形



有( )个正方形



有( )个正方形

## 三、思维训练题

小平家距学校 2 千米，一次他上学走了 1 千米，想起忘带铅笔盒，又回家去取。这次他到学校共走了多少千米？

# 一年级数学下册课内每日计算小纸条

姓名\_\_\_\_\_班级\_\_\_\_\_

## 一、口算题

$6+28=$

$13-5+9=$

$40+20=$

$52-9=$

$20-(5+1)=$

$49-( )=9$

$2+30=$

$46-40=$

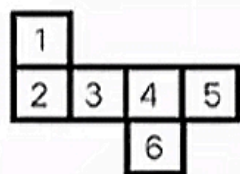
$15+30=$

$26-4=$

$60+( )=66$

$( )+20=20$

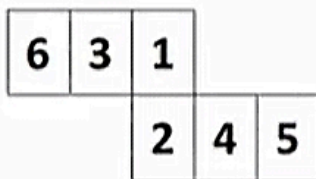
## 二、填空题



1的对面是 ( )

2的对面是 ( )

3的对面是 ( )



1的对面是 ( )

3的对面是 ( )

## 三、思维训练题

小华有 10 个红气球，小花有 8 个黄气球。小华用 4 个红气球换小花 3 个黄气球，现在小华、小花各有几个球？

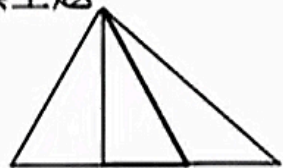
# 一年级数学下册课内每日计算小纸条

姓名\_\_\_\_\_班级\_\_\_\_\_

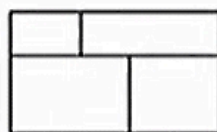
## 一、口算题

$$\begin{array}{llllll} 30+15= & 45-11= & 59-8= & 76-23= & 10+5+5= & 12+6+12= \\ 31+45= & 25-4= & 21+9= & 40-30= & 50-( )=10 & ( )+60=80 \end{array}$$

## 二、填空题



有( )三角形



有( )个长方形

有( )正方形

## 三、思维训练题

有一本书，小华第一天看了 2 页，以后每一天都比前一天多看 2 页，第 4 天看了多少页？

# 一年级数学下册课内每日计算小纸条

姓名\_\_\_\_\_班级\_\_\_\_\_

## 一、口算题

$$\begin{array}{llllll} 32+46= & 13+45= & 87-20= & 90-10= & 6+61-5= & 50+11-10= \\ 5+61= & 36-11= & 15+60= & 31+(7+3)= & 24+30-6= & 49-( )=9 \end{array}$$

## 二、填空题

- 最大的两位数是\_\_\_\_\_，最大的一位数是\_\_\_\_\_，他们的差是\_\_\_\_\_。
- 用数字2、3、4组成\_\_\_\_\_不同的两位数，其中最大的两位数和最小的两位数的差是\_\_\_\_\_。
- \_\_\_\_\_个十是80，再添上\_\_\_\_\_个十和\_\_\_\_\_个一就是93。

## 三、思维训练题

王老师做了些花奖励给明明和冬冬，明明得到16 朵，冬冬得到的是明明的一半，王老师一共做了多少朵花？

# 一年级数学下册课内每日计算小纸条

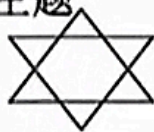
姓名\_\_\_\_\_ 班级\_\_\_\_\_

## 一、口算题

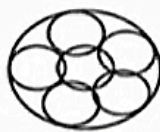
$9+81=$	$70-50=$	$70-10=$	$20+40=$	$79+14-1=$	$77-4+9=$
$48+20=$	$58+20=$	$83-20=$	$29-( )=7$	$( )-11=6$	$( )+56=66$

## 二、填空题

1、



( ) 个三角形



( ) 个圆形

2、如果  $\triangle=10$ ,  $\star=9$ ,  $\square=11$ , 那么:

$\triangle+\square=( )$	$\star+\square=( )$	$\triangle+\star=( )$
-------------------------	---------------------	-----------------------

## 三、思维训练题

小红有 15 本书, 小东有 5 本书, 小红给小东多少本书, 两个人的书就同样多?



# 一年级数学下册课内每日计算小纸条

姓名\_\_\_\_\_ 班级\_\_\_\_\_

## 一、口算题

$43+9=$        $90-30=$        $30+40=$        $37-20=$        $31+6+50=$        $28+0+12=$

$43+4=$        $70-50=$        $77+8=$        $10+90=$        $46-(2+8)=$        $32+5+13=$

## 二、填空题

1、4、在12、15、17、8、20、13、16、5、0这9个数中,最小的是(    ),最大是(    )。从左边数起第3个是(    ),第6个是(    ),从右边数起第2个是(    ),第8个是(    )。

2、如果 $\triangle+\triangle=10$        $\bigcirc+\triangle=18$

那么 $\bigcirc=(\quad)$        $\triangle=(\quad)$

## 三、思维训练题

阳阳参加一个书法比赛。一共有 28 个小朋友参赛,阳阳要和参赛的每个小朋友都握一次手,一共要握多少次手?

# 一年级数学下册课内每日计算小纸条

姓名\_\_\_\_\_班级\_\_\_\_\_

## 一、口算题

$66-6=$	$30-6=$	$81+2=$	$59-50=$	$23+5+13=$	$19-6+8=$
$10+32=$	$37+5=$	$51+30=$	$14+50=$	$70-60+20=$	$99-(\quad)=69$

## 二、填空题

1、括号里最大能填几： $20 > (\quad) + 2$       $2 < 14 - (\quad)$       $19 > (\quad) + 7$

2、 $\triangle - \star = 6$       $\bigcirc - \triangle = 1$       $\triangle + \triangle = 4$

$\star = (\quad)$       $\bigcirc = (\quad)$       $\triangle = (\quad)$

## 3、按规律填数字：

1、 $(\quad)$ 、6、9、12、 $(\quad)$   $(\quad)$

2、 $(\quad)$  11、9、 $(\quad)$   $(\quad)$   $(\quad)$

## 三、思维训练题

衣服正面有4个扣子，一个袖子上有2个扣子，这件衣服上有多少个扣子？

# 一年级数学下册课内每日计算小纸条


姓名\_\_\_\_\_班级\_\_\_\_\_

## 一、口算题


$9+8=$	$7-5=$	$20-9=$	$2+14=$	$9+9=$	$4+6=$
$8+12=$	$8+10=$	$13-2=$	$9-( )=7$	$( )-11=6$	$( )+5=17$

## 二、填空题

1、



( )个三角形



( )个圆形

2、如果 $\triangle=10$ , $\star=9$ , $\square=11$ ,那么:

$\triangle+\square=( )$        $\star+\square=( )$        $\triangle+\star=( )$

## 三、思维训练题

小红有15本书，小东有5本书，小红给小东多少本书，两个人的书就同样多？





## 一年级数学下册课内每日计算小纸条

姓名\_\_\_\_\_班级\_\_\_\_\_

### 一、口算题

$70-5=$	$30-3=$	$25+4=$	$81-2=$	$76+10-6=$	$66-6+9=$
$39+10=$	$52-4=$	$32-4=$	$66-4=$	$(\quad)-3=27$	$30-(\quad)=3$

### 二、填空题

- 1、一个数在70和80之间，个位上的数比十位上的数多2,这个数是\_\_\_\_\_
- 2、写出三个十位上是8的数：\_\_\_\_\_；\_\_\_\_\_；\_\_\_\_\_
- 3、括号里最大能填几： $20>7+(\quad)$   $5<14-(\quad)$   $7+(\quad)<19$

### 三、思维训练题

小朋友做操，从前往后数我是第11个，从后往前数我是第7个，一共有多少人做操？

# 一年级数学下册课内每日计算小纸条

姓名\_\_\_\_\_班级\_\_\_\_\_

## 一、口算题

$$\begin{array}{llllll} 9+81= & 70-50= & 70-10= & 20+40= & 79+14-1= & 77-4+9= \\ 48+20= & 58+20= & 83-20= & 29-( )=7 & ( )-11=6 & ( )+56=66 \end{array}$$

## 三、填空题

1、 如果  $\star+7=16$   $\triangle+\star=20$

那么  $\star=( )$   $\triangle=( )$

2、在O里填上<、>或=。

$$\begin{array}{lll} 17-\triangle=13 & 17-\square=12 & \triangle O \square \\ \triangle-\star=10 & \square-\star=8 & \triangle O \square \end{array}$$

## 三、思维训练题

11名男生站成一排，老师要求每两名男生中间站一名女生。算一算，女生站进去后，一共有多少名学生？

# 一年级数学下册课内每日计算小纸条

姓名

\_班级

## 一、口算题

$13-5+8=$

$13-5+9=$

$9+4+2=$

$11+1+5=$

$6+3+3=$

$7-4+6=$

$10+5+5=$

$12+6+3=$

$9+9-1=$

$7+1+7=$

$9+2-7=$

$6+4+7=$

$7-4+8=$

$3+4+7=$

$4-1+7=$

## 二、填空题



## 三、思维训练题

去看电影，进了电影院后对号坐下，正数我坐13排，倒数还是13排。这个电影院座位有多少排？